



**KAMU PERSONEL SEÇME SINAVI
ÖN LİSANS**

**GENEL YETENEK TESTİ
GENEL KÜLTÜR TESTİ**

22 EYLÜL 2012 CUMARTESİ

T.C. KİMLİK NUMARASI :

ADI :

SOYADI :

SALON NO. :

SIRA NO.:

Soru kitapçık numarasının cevap kâğıdına kodlanmamasının veya yanlış kodlanmasının sorumluluğu adaya aittir.

**SORU KİTAPÇIK
NUMARASI :**

**TEMEL SORU
KİTAPÇIĞI**

Bu numarayı cevap kâğıdınızdaki ilgili alana kodlamayı unutmayınız.

DİKKAT! SINAV BAŞLAMADAN ÖNCE AŞAĞIDAKİ UYARILARI MUTLAKA OKUYUNUZ.

1. T.C. Kimlik Numaranızı, Adınızı, Soyadınızı, Salon Numaranızı ve Sıra Numaranızı, Soru Kitapçığı üzerindeki ilgili alanlara yazınız.
2. Soru Kitapçık Numaranız yukarıda verilmiştir. Bu numarayı cevap kâğıdınızdaki ilgili alana kodlayınız ve aşağıdaki ilgili alanı imzalayınız. Salon görevlisinin de hem soru kitapçığındaki hem de cevap kâğıdınızdaki ilgili alanı imzalamasını sağlayınız. Bu kodlamayı cevap kâğıdınıza yapmadığınız veya yanlış yaptığınız takdirde, sınavınızın değerlendirilmesi mümkün değildir.
3. Bu sayfanın arkasında yer alan açıklamayı dikkatle okuyunuz.

Adayın imzası:

Soru kitapçık numarasını doğru kodladım.

Salon görevlisinin imzası:

Adayın soru kitapçık numarasını cevap kâğıdına doğru kodladığını onaylıyorum.

AÇIKLAMA

1. Bu kitapçıkta Kamu Personel Seçme Sınavı (Ön Lisans) Genel Yetenek Testi ve Genel Kültür Testi bulunmaktadır.
2. Bu testler için verilen toplam cevaplama süresi **120 dakikadır (2 saat)**.
3. Genel Yetenek Testi ve Genel Kültür Testinin her birinde **60 soru** vardır.
4. Bu kitapçıkta testlerde yer alan her sorunun sadece bir doğru cevabı vardır. Bir soru için birden çok cevap yeri işaretlenmişse o soru yanlış cevaplanmış sayılacaktır.
5. İşaretlediğiniz bir cevabı değiştirmek istediğinizde, silme işlemi çok iyi yapmanız gerektiğini unutmayınız.
6. Bu testler puanlanırken doğru cevaplarınızın sayısından yanlış cevaplarınızın sayısının dörtte biri düşülecek ve kalan sayı testle ilgili ham puanınız olacaktır. Bu nedenle, hakkında hiçbir fikriniz olmayan soruları boş bırakınız. Ancak, soruda verilen seçeneklerden birkaçını eleyebiliyorsanız kalanlar arasında doğru cevabı kestirmeye çalışmanız yararınıza olabilir.
7. Sınavda uyulacak diğer kurallar bu kitapçığın arka kapağında belirtilmiştir.

1. Bu testte 60 soru vardır.

2. Cevaplarınızı, cevap kâğıdının Genel Yetenek Testi için ayrılan kısmına işaretleyiniz.

1. Edebiyatımızın önemsiz sayılmayacak bir sorunu, yazılanların birbirine yakın durma endişesidir. Oysa birbirinden uzaklaşmak, yazılanların seçkinlik kazanma nedenlerindedir ama bu, çoğu zaman unutulur. Nasıl değil, ne yazıldığı endişesi öne geçer ve bu da yazılanların aynı potada toplanmasına yol açar.

Bu parçadaki altı çizili sözle anlatılmak istenen aşağıdakilerden hangisidir?

- A) Üslup bakımından benzerlik taşıma
B) Değişik bakış açılarını kabul etmeme
C) Bilimsel kaynaklardan beslenme
D) Yeni biçim arayışlarına girmeme
E) Geçmişteki yazarları yok sayma

2. Kişisel maceranızı aşmak, farklı öykülere karışmak istiyorsanız yol arkadaşı olarak yanınıza bir iki kitap alıp uzun tren yolculuklarına çıkın, derim. Rastgele bir trenin, rastgele bir vagonunda yan yana oturduğunuz yolcularla sohbet edin. Anlayacaksınız ki onların utangaç gülümseyişlerinde neler neler saklı...

Bu parçadaki altı çizili sözle anlatılmak istenen aşağıdakilerden hangisidir?

- A) Zorluklarla baş etmeyi öğrenmek
B) Yaşamın gizlerini çözmek
C) Başka insanların dünyalarına girmek
D) Öz güven kazanmak
E) Yeni uğraşlara merak salmak

3. Ünlü kişilerin yaşamlarının didik didik edilmesi (ayrıntılı olarak incelenmesi) kaçınılmaz (vazgeçilmez) bir durum. Sıra Mark Twain'e gelmiş gibi görünüyor. Ama bir farkla: Bu dosyayı hazırlayan (oluşturan), Twain'in ta kendisi! Dosyada, yazarın ölümünden yüz yıl sonra yayımlanması koşuluyla yazdığı otobiyografisi (öz yaşam öyküsü) yer alıyor. Yazılanların ne kadar nesnel (yansız) olabileceği elbette tartışılır. Ama kuşkusuz ilginç bir kitap olacak.

Bu parçadaki numaralanmış sözlerden hangisi ayrıç içinde verilen sözün anlamını içermemektedir?

- A) I. B) II. C) III. D) IV. E) V.

4. **Aşağıdaki cümlelerin hangisindeki deyim, insana özgü olumlu bir niteliği yansıtmaktadır?**

- A) Sen istediğin kadar uyar, o kendini dev aynasında görmeyi sürdürecektir.
B) Alacağına şahin, vereceğine kargadır, diyorlar onun için.
C) Onun ne kadar fırsat düşkünü olduğunu buradaki herkes bilir.
D) Ben onu çocukluğundan beri tanırım, kimse eline su dökemez.
E) Onu hesaba katma sen, güneşinde mendil kurumaz onun.

5. (I) Türkiye'nin keşfedilmeyi bekleyen pek çok doğal değeri bulunuyor. (II) Aslında bunları yöre halkı biliyor. (III) Haritalarda birtakım işaretlerle gösterilen bu yerlerin fotoğrafları, illerin tanıtım broşürlerinde de kullanılıyor. (IV) Bilinmeyen ise anlamları ve gerçek değerleri, örneğin Malatya'nın Akçadağ ilçesindeki Levent Kanyonu bunlardan biri. (V) Kayalara insan eliyle açılan mağaralarda Hititlerden itibaren birçok uygarlığın temsilcisinin yaşamış olabileceği düşünülüyor ama henüz kapsamlı bir arkeolojik çalışma yapılmamış.

Bu parçada numaralanmış cümlelerin hangisinde tahmin söz konusudur?

- A) I. B) II. C) III. D) IV. E) V.

6. (I) "Sesimi duyurmak istiyorum." diyordu, karşımda oturan şair adayı. (II) Adını bir kitabın kapağında yazılı görmek istiyordu besbelli. (III) Şiirleri iki kapak arasında bir kitaba dönüşse birileri tarafından fark edilir ve sesini duyurmuş olur muydu? (IV) Sesini duyurmuş olsa çok şey mi değiştirdi yaşamında, sanki kim şiirle ün ve para kazanmıştı ki! (V) Üne kavuşmuş ve dizi dizi kitapları olan şairler fark ediliyor muydu ki gençlik düşlerini basitçe şiirleştirmiş biri kendini fark ettirebilirdi?

Bu parçadaki numaralanmış cümlelerin hangisinde, sözü edilen şairin şiirlerinin niteliğine değinilmiştir?

- A) I. B) II. C) III. D) IV. E) V.

7. **Aşağıdaki cümlelerin hangisinde öznel bir değerlendirme yoktur?**

- A) Adı, Pers dilinde "güzel atlar ülkesi" anlamına gelen Kapadokya, İpek Yolu'nun da önemli kavşaklarından biridir.
- B) Kapadokya'da bir başka güzel olan bahar mevsimi, bölgeyi ziyaret etmek için en ideal zaman dilimidir.
- C) Masalsı görünümünün etkisiyle "peribacaları" olarak adlandırılan oluşumların arasında bereketli vadiler bulunur.
- D) Kapadokya'da ev yapımında kullanılan ve yerinden ilk çıkarıldığında şekillendirilebilen kayalar soğukla temas edince katılaşır.
- E) Kapadokya üzerinde zarifçe süzülen balonlara binenler, bölgenin turizm açısından ne kadar zengin olduğunu görürler.

8. (I) Mardin'e ilk kez, üniversiteye başladığım yıl gitmiştim. (II) Bir iki gün gezer gelirim, diye düşünmüştüm. (III) Ne var ki uçaktan inip Kızıltepe tarafından kent merkezine doğru yola çıktığımda işlerin planladığım gibi gitmeyeceğini anladım. (IV) Mardin'i ilk gördüğüm andı bu, şehir narin bir boyna takılı zarif bir gerdanlık gibi duruyordu karşımda. (V) Kartal yuvası gibi yüksekteydi; Mezopotamya Ovası'na yukarıdan, gururla bakıyordu tarihî kent.

Mardin'in anlatıldığı bu parçadaki numaralanmış cümlelerle ilgili olarak aşağıda verilenlerden hangisi yanlıştır?

- A) I. cümlede, kentte bulunulan zamanla ilgili bilgi verilmiştir.
- B) II. cümlede, bir sezgi dile getirilmiştir.
- C) III. cümlede, beklenenin gerçekleşmeyeceğinin fark edildiğinden söz edilmiştir.
- D) IV. cümlede, benzetme yapılmıştır.
- E) V. cümlede, kişileştirmeye başvurulmuştur.

9. (I) Diyarbakır'daki İçkale, Dışkale'nin kuzeydoğu köşesinde, kalkan balığı şeklindeki surların baş kısmında yer alıyor. (II) Dışkale'den surlarla ayrılan Virantepe, kentin ilk yerleşimi. (III) Her devirde yönetim merkezi olan İçkale'de, Fetih ve Oğrun Kapıları dışa, Saray ve Küpeli Kapıları kente açılıyor. (IV) Hapishanenin de yer aldığı İçkale'ye giriş, izne tabi. (V) Fotoğraf çekilemeyen bölgenin, tüm yapılar restore edildikten sonra önemli bir turizm ve kültür merkezi hâline gelmesi bekleniyor.

İçkale'nin anlatıldığı bu parçadaki numaralanmış cümlelerle ilgili olarak aşağıda verilenlerden hangisi yanlıştır?

- A) I. cümlede, konum belirtilirken bir benzetmeden yararlanılmıştır.
 B) II. cümlede, surların uzunluğundan söz edilmiştir.
 C) III. cümlede, giriş ve çıkış yapılan yerler sıralanmıştır.
 D) IV. cümlede, bir eylemin bağlı olduğu koşul dile getirilmiştir.
 E) V. cümlede, söz konusu çalışmanın kapsamına değinilmiştir.
10. (I) Sözsüz iletişimin pek çok yolu vardır. (II) Örneğin, Türkiye'nin Karadeniz bölgesindeki bazı köylerde evler, yöre koşullarından dolayı sarp kayaların ya da birbirinden uzak tepelerin üzerinde kurulmuştur. (III) Uzaktan uzağa haberleşmek isteyen köylüler, bugün bile seslerini birbirlerine ıslıkla duyururlar. (IV) Yüz yüze konuşamayan bu insanlar, keskin ıslık sesleriyle haberleşirler ve her ıslık türü farklı bir anlam taşır. (V) Tıpkı, rengine ve duruşuna göre farklı anlamlara gelen bayraklarla haberleşen eski denizciler gibi...
- Bu parçadaki numaralanmış cümlelerin hangisinde işin yapıldığı yeri belirten bir tümleç vardır?**
- A) I. B) II. C) III. D) IV. E) V.

11. Baltık Denizi'nin Finlandiya ve İsveç arasındaki

bölgesinde keşfedilen bir cisim gizemini koruyor.

I

"Ocean X" adındaki dalış ekibinin 86 metre derinlikte

bulduğu cisim, kendisine 200 metre yaklaşıldığında

II

III

tüm cihazları kilitliyor. 60 metre genişliğe sahip olan bu

IV

V

cismin, bir göktaşı olma olasılığı üzerinde duruluyor.

Bu parçadaki numaralanmış sözlerden hangisi, tek başına, içinde bulunduğu cümlelerin öğelerinden biridir?

- A) I. B) II. C) III. D) IV. E) V.

12. (I) Şimdi olduğu gibi eskiden de Anadolu'dan İstanbul'a çalışmak üzere insanlar gelirmiş. (II) Bunların çoğu herhangi bir mesleğe sahip olmadıklarından ya hamallıkla ya da kazma kürekle çalışarak işe başlarlarmış. (III) Bunlar içinde öyleleri olurmuş ki ne hamallık yapacak bir ipleri ne de işçilik yapacak kazmaları, kürekleri bulunmuş. (IV) Bir "ip" veya tutacak bir "sap" sahibi olmayan bu kişiler için söylenen "ipsiz sapsız" deyimini meslek sahibi olmayanları anlatmak amacıyla kullanılır hâle gelmiş. (V) Hâlen, haylazlık eden, geçim derdinin ne olduğunu bilmeyen sorumsuz insanlar için de bu deyim kullanılmaktadır.

Bu parçadaki numaralanmış cümlelerle ilgili olarak aşağıda verilenlerden hangisi yanlıştır?

- A) I. cümlede, yüklem geniş zamanın rivayetiyle çekimlenmiştir.
 B) II. cümle, birleşik bir cümledir.
 C) III. cümle, yüklemi türemiş fiil olan kurallı bir cümledir.
 D) IV. cümle, sıralı bir cümledir.
 E) V. cümle, içinde zarf tümleci olan bir cümledir.

13. Şanlıurfa iline bağlı olan Birecik, mavi suları durgun
I
akan Fırat'ın yanında, Asurlulardan kalma surlar
II
üzerindeki on iki burçlu kalesiyle, tarihî mirasını
III
yıkık dökük de olsa günümüze kadar taşıyan güzel
IV V
bir yer.

Bu cümledeki numaralanmış sözlerle ilgili olarak aşağıda verilenlerden hangisi yanlıştır?

- A) I'inci, niteleme amacıyla kullanılmıştır.
B) II'ncide birden fazla çekim eki vardır.
C) III'üncüde bağlaç olan "ki" kullanılmıştır.
D) IV'üncü, ikilemeden oluşmuştur.
E) V'inci, sözcük türü olarak edattır.

14. Gökova Körfezi'ndeki Okluk Koyu'nun girişinde bir
I
heykeltıraşımızın yaptığı deniz kızı heykeli var. Kaya-
II
lıklar üzerindeki heykel, 1995 yılının 28 Ekim Günü
III
"bir sükran borcu olarak" dikilmiş. Heykelin üzerinde şu
IV
sözler yazılı: "Bu deniz kızı, düşlerini süsleyen cennete
erişebilmek için, nice engin denizler, ufuklar aştı. Kıta-
lar, adalar, koylar dolaştı. Ta ki Gökova'ya ulaşana
V
kadar."

Bu parçadaki numaralanmış sözlerden hangisinin yazımı yanlıştır?

- A) I. B) II. C) III. D) IV. E) V.

15. Dik () ağaçsız bir yokuşu kan ter içinde tırmanıyorduk.

– Ha gayret ()

Kılavuzun sesi ortalığı çınlattı () Yarım saat daha tırmandık. Çam ağaçlarının yanına gelince kılavuz geride kalanlara seslendi ()

– İşte uçurumun başı.

Bu parçada ayraçlarla () belirtilen yerlere aşağıdaki noktalama işaretlerinden hangileri sırasıyla getirilmelidir?

- A) (,) (!) (.) (:)
B) (;) (,) (...) (!)
C) (;) (,) (.) (:)
D) (,) (!) (...)(.)
E) (;) (!) (...)(.)

16. Aşağıdaki cümlelerin hangisinde bir anlatım bozukluğu vardır?

- A) Yarışmada sorulan soruların yalnızca üçünü cevaplayabilmişti.
- B) İşlerini yoluna koymak için gece gündüz demeden çalışıyordu.
- C) Her gün aynı yerde aynı saatte kuşlara yem atardı.
- D) Bu kentin bütün sokaklarını avucumun içi gibi bilirim.
- E) Kardeşine niçin odayı toplamadığı için çıkmış.

17. 1816'da Fransız Doktor Réne Laënnec, Paris sokaklarında dolaşırken oyun oynayan iki çocuk gördü. Çocuklardan biri elindeki tahta sopanın bir ucuna kulağını dayıyor, öbürüyse tahtanın öteki ucuna iğneyle vuruyordu. Vuruş sesleri, tahtanın içinden iletiliyordu. Bunu gören Laënnec de bir sayfa kâğıdı rulo yaparak iple bağladı. Hastasının göğsüne dayadığında kalp atışlarını duyuyordu. Bundan yola çıkılarak geliştirilen alete, Yunanca göğüs anlamındaki "stethos" ve vurmak anlamındaki "skopein" sözcüklerinin birleşmesiyle oluşmuş stetoskop adı verildi.

Bu parçanın anlatımı için aşağıdakilerden hangisi söylenebilir?

- A) Tartışmaya başvurulmuştur.
- B) Kişileştirme yapılmıştır.
- C) Terim kullanmaktan kaçınılmıştır.
- D) Betimlemeden yararlanılmıştır.
- E) Öznellik söz konusudur.

18. (I) *Solar*, Mc. Ewan'ın son romanı. (II) Roman güncel bir konudan, iklim biliminden yola çıkıyor. (III) Yapıt; iklim bilimi, yenilenebilir enerji sistemleri, özellikle güneş enerjisi üzerine anlamlı mesajlar verse de yalnızca bu amaçla kaleme alınmamış. (IV) Böyle olsaydı kitabın türü roman değil, başka bir şey olurdu, ayrıca böyle bir yazardan bununla yetinmesi de beklenemezdi. (V) *Solar*, 2000, 2005 ve 2009 yıllarında kesintiye uğramış üç bölümden oluşuyor. (VI) Bu yılların arasındaki zamanlarda ise bazı atlamalar görülüyor. (VII) Yani yazar, belirli bir tarihin, kurguya uygun bir yerinden kesip önceki bölümde anlattığı olayları, gelişmiş aşamalarıyla karşımıza çıkarabiliyor.

Bu parça iki paragrafa ayrılmak istense ikinci paragraf hangi cümleyle başlar?

- A) II. B) IV. C) V. D) VI. E) VII.

19. Kendi davranış kalıplarını, düşünce tarzlarını başkasına benimsetme çabası, insanın doğasından gelen bir eğilim. İnsan, kendi düşüncesini ve davranışını benimseyenlerin olduğu bir ortamda rahatlık duyar. Ters durumdaysa tedirginleşir, yabancılık duygusuna kapılır. ----. En son çare olarak da o topluluğu terk eder.

Bu parçada boş bırakılan yere, düşüncenin akışına göre aşağıdakilerden hangisi getirilmelidir?

- A) Böyle zamanlarda insan başkalarının yardımı olmadan ne yapacağını bilemez
- B) Ya kendisi onlara uymaya çalışır ya da onları kendine uydurmanın yollarını arar
- C) Yeni koşullara uyum sağlamadaki zorlukları istese de kolay kolay aşamaz
- D) Bu duyguyu hiçbir zaman yaşamayan insanlarla birlikte olmaya çalışır
- E) Gerekmedikçe ortak alanları kullanmaktan rahatsızlık duyar

20. Her sektörde olduğu gibi yayıncılık sektöründe de hesaba katılmayan sürprizler söz konusu olabilir. Çok satmasını beklediğiniz bir kitap sizi hayal kırıklığına uğratabilir ya da hakkındaki beklentilerinizi daha düşük tuttuğunuz bir başka kitap umulmadık bir ilgiyle karşılanabilir. Şu da bir gerçek ki yayımlanacak kitabın türüne ilişkin olarak geliştireceğiniz öngörü ve stratejiler büyük ölçüde bellidir. Buradan yola çıkarak doğru kitleye, doğru koşullar içinde sunulmuş bir kitabın başarıya ulaşacağı söylenebilir elbette.

Bu sözler aşağıdaki sorulardan hangisine karşılık olarak söylenmiş olabilir?

- A) Bir kitabın nasıl bir satış grafiği çizeceği önceden belirlenebilir mi?
- B) Kitap yazılırken bir hedef kitle belirlenmesine gerek var mıdır?
- C) Okurun kitaba ilgi duyması nelere bağlıdır?
- D) Kitaplar her zaman yazılma amaçlarına hizmet eder mi?
- E) Bir kitap hakkında sahip olunan ön yargılar kitabın satışını etkiler mi?

21. İnsanoğlu, bir soyutlamayla üç ana dilime ayırmıştır zamanı: Geçmiş, yaşanan, gelecek. Oysa ya geçmişte yaşarız ya da gelecekte. Yaşanılan zaman diliminin dışındayızdır. Ayırımına bile varmayız bunun. Ünlü Amerikan oyun yazarı O'Neill'in de belirttiği gibi yaşanan zaman, "araya giren bir garip oyun"dur. Geçmiş ve gelecek üzerine kurulmuştur bu oyun. Kurgusuna da akışına da onlar yön verir.

Bu parçada, yaşanan zamanla ilgili olarak aşağıdakilerden hangisine değinilmiştir?

- A) Tadına vararak yaşamının önemli olduğuna
- B) Geçmişteki olumsuzlukları önemsememek gerektiğine
- C) İyimserliğin, içinde bulunulan anı güzelleştirdiğine
- D) Geçmiş ile gelecek arasında köprü olduğuna
- E) Geçmişteki deneyimlerin, geleceğe ilişkin ipuçları taşıdığına

22. Kimi şairlerimizin; ilk kitaplarını ya da şiirlerini niçin önemsemediklerini, şiir serüvenlerini ikinci ya da üçüncü kitaplarıyla başlamış kabul ettiklerini, okurların ve eleştirmenlerin de bu düşünceden hareketle kendilerini okumalarını, değerlendirmelerini istemelerini hiçbir zaman tam olarak anlayamadım. Bu inkârcı tutuma, o tutumu takınan isim gözümde ne kadar büyük, ne kadar önemli bir şair olsa da bir türlü hak veremedim. Zira bilinçli okur, o şairin toplu şiirlerine bakacak, varsa ondaki gelişimi mutlaka fark edip dikkate alacaktır. Şairin ilk yapıtları ne derece acemice yazılmış olursa olsun o şairle ilgili herhangi bir olumsuz duygu ya da düşünceye kapılmayacaktır.

Bu parçada aşağıdakilerin hangisinden yakınılmaktadır?

- A) Yapıtların kronolojik bir sırada okunmamasından
- B) Şairler arasındaki kişisel çekişmelerden
- C) Şairlere ve yapıtlara acımasızca yöneltilen olumsuz eleştirilerden
- D) Ortaya konan yapıtların yeterince anlaşılmasından
- E) Sanatçıların, ilk ürünlerini görmezden gelmelerinden

23. Edebî ürünlerle tanışmamış bir kişi, insan olmanın bilincine ulaşamaz. Kendi beninin duvarları arasında tutsaktır o. Çevresinde olup bitenlerin, çirkinliklerin, eşitsizlik ve haksızlıkların ayırımına varamaz. Kendine de çevresine de yabancılaşmıştır. Akıp giden zamanın da doğanın da zenginliklerini duyumsayamaz. Günlerinin çölümü-sü bir havası vardır; durgun, devinimsiz.

Bu parçaya göre edebî ürünlerle tanışmamış bir insanda,

- I. eleştirel bir bakış açısına sahip olma,
- II. yaşamın ve güzelliklerin farkında olma,
- III. tekdüze bir yaşam sürme

özelliklerinden hangileri görülür?

- A) Yalnız I
- B) Yalnız III
- C) I ve II
- D) I ve III
- E) II ve III

24. Tuluat tiyatrosunun gelişmeme nedenini bir yazarımız şöyle açıklıyor: Bu sanatın temeli sanatçının zekâsına, nükte yapma yeteneğine dayanır. Ancak son temsilcileri okula hiç gitmemiş kişilerdi. Böyle kişiler, en üst düzeyde bir zekâyâ sahip olsalar bile bu, işlenmemiş bir zekâdır. Böylelerinin olaylara bakışı, duyarlılığı, nükteleri, ele aldıkları konular elbette sınırlı kalır. Dolayısıyla bu sanatçıların çoğu, tiyatro konusunda bir estetik duyarlık ve dolayısıyla bir teknik de geliştirememişlerdi.

Bu sözleri söyleyen yazara göre "tuluat tiyatrosu"nun gelişmemesinin en önemli nedeni aşağıdakilerden hangisidir?

- A) Başkalarından destek görmeyiş
- B) Kendinden önceki sanatçıları örnek almama
- C) Sanatçıların eğitimsizliği
- D) Meslekteki teknik olanaksızlıklar
- E) Sanatçıların çevreye karşı ilgisizlikleri

25. Romanda dünya standartlarını tutturmuş çağdaş yazarlarımız var. Ancak roman eleştirisinde genel görünüm öyle değil. Roman eleştirisinin; yapıtın açıklayıcı, yorumlayıcı ve değerlendireci bir inceleme olması gerekir. Bizde ise apayrı bir değerlendirme eğilimi yaygın. Genellikle, metni esas alan bir çözümlenmeye gidilmiyor. Çoğunlukla öznel, duygusal ölçütlerle hareket edildiği görülüyor. Daha da önemlisi, yargılarını yapıttan yapacağı alıntılarla belgelemeye gerek duymayan eleştirilerle karşı karşıya kalıyoruz.

Bu parçaya göre aşağıdakilerden hangisi söylemez?

- A) Eleştiride yalnızca yapıtın değil, yazıldığı dönemin ve yazarın yaşamının da konu edilmesi gerektiği
- B) Eleştiri yöntemlerinin, Batılı eleştirmenlerinkinden farklılık gösterdiği
- C) Ülkemizde, eleştiri türünde roman kadar başarılı ürünler ortaya konmadığı
- D) Eleştirmenlerin, düşüncelerini yapıttan verecekleri örneklerle kanıtlama yolunu seçmedikleri
- E) Eleştirmenlerin, yapıtları değerlendirirken yansız bir tutum içinde olmadıkları

26. Verimlilik, zihinde başlar ve zihinde beliren düşüncelerin uygulamaya aktarılmasıyla gerçekleşir. Bu süreçte zihinsel ve fiziksel kaynakları iyi değerlendirerek üretim yapmak önemlidir. Verimliliğin gerçekleşmesi; sorgulama, karar verme, planlama, kaynakları yönetme, uygulama, değerlendirme, sorun çözme gibi becerilere bağlıdır. Bu becerilerin geliştirilmesi ve hayat boyu sürdürülmesi ise çağdaş bir eğitim gerektirir. Şartlanmış ve kalıplaşmış zihinler üreten geleneksel eğitim yaklaşımları, günümüz gelişmeleri karşısında yetersiz kalmaktadır. Geleneksel anlayışla yetişen bireyler, üretim ve verimliliğin gerektirdiği becerileri geliştiremez, yeniliklere uyum sağlayamaz ve ülke kalkınmasına katkıda bulunamaz. Bunu fark eden ülkeler, eğitimde şartlandırma yerine, düşünen, anlayan, sorgulayan ve sorun çözen bireyler yetiştirmeye ağırlık vermektedir.

Bu parçada verimlilikle ilgili olarak aşağıdakilerden hangisine değinilmemiştir?

- A) Ne tür düşünsel becerilere sahip olmayı gerektirdiğine
- B) En yüksek düzeyine ulaşmış ülkelere
- C) Toplumsal gelişimin önemli bir ögesi olduğuna
- D) Gerçekleştirilmesinde eğitim anlayışının rolüne
- E) Kişilerin yaşamlarının belirli bir dönemiyle sınırlı olmadığına

27. Ben okumayı söktüğüm günden beri merakla, tutkuyla okuyorum. Çok defa hayatımı değiştirmek üzere önemli adımlar attım. Sevdiğim sayısız yazar ve kitap bana bunu nasıl yapabileceğimi hakkıyla gösterdi, özellikle de yazmak için cesaret ve güç verdi. Aslında hayatım yazmaya başlamakla değişti. Okudukça ve yazdıkça hayatın bize sunulan reçetelerden ibaret olmadığını keşfettim. Soru sormaktan, kuşku duymaktan, insan hayatı ve onuruna zarar verecek her şeye karşı olmaksızın vazgeçmemeyi öğrendim.

Bu parçanın yazarıyla ilgili olarak aşağıdakilerden hangisi söylenemez?

- A) Okumaya ve yazmaya karşı düşüncelerini ailesinin verdiği destekle oluşturmuştur.
- B) Okumanın ve yazmanın, kendisi üzerinde önemli bir etkisi olduğunu düşünmektedir.
- C) Benimsenmiş durumların sorgulanabileceğine inanmaktadır.
- D) Bir yandan kendini geliştirirken bir yandan da haksızlıklara direnme gücü kazanmıştır.
- E) Kitapların ve yazarların birer yol gösterici olduğu kanısındadır.

28. Bir yapıtın sinematografik yapısı ancak bu kadar etkin olabilir. Yapıtı okumuyor da yaşıyorsunuz. Ağladığınız, güldüğünüz, öfkelendiğiniz, şaşırduğunuz anları... Ülkemizin bir dönemini çok farklı bir kurgu içinde veriyor. Bilgi alırken farkında olmuyorsunuz. Kadınların sosyal durumlarını, geleneksel yapının olumlu ve olumsuz yanlarını, çocuk yetiştirirken nelerin hangi sonuçları doğurduğunu çok farklı, çok müthiş bir anlatımla veriyor. Yapılan ruhsal çözümler, hiç beklenmeyen yerde romana dâhil olan farklı öyküler, çok önemli felsefi tartışmalar, yapıta dâhil olmuyor. Kullanılan sözcüklerle dil ancak bu kadar esnetilerek yalın kullanılabilir.

Bu parçada anlatılan yapıtla ilgili olarak aşağıdakilerden hangisine değnilmemiştir?

- A) Öğretici nitelik taşıdığına
- B) Benzer nitelikteki yapıtlardan ayrıldığına
- C) Anlaşılmasının çaba gerektirdiğine
- D) Yaşamın farklı alanlarına tanıklık ettiğine
- E) Okurunu heyecanlandıran bir yapısının olduğuna

29. Eski Türkçede "yula", Osmanlıcada "çerağ" denen kandil sözcüğü; Latince parlamak, ışıldamak anlamına gelen "candela"dan geliyor. Kandillerde, bal mumu ve hayvansal yağdan yapılmış mumlar kullanılırdı. Bizans Dönemi'nde mumhaneler çoğalınca kandil kullanımı da yaygınlaştı. Türklerde de kandiller yaygındı. Özellikle camileri ve kamu yapılarını aydınlatmada kandillerden yararlanılırdı. Cam şişeler içine konan kandillerin çok kollu ve zincirle asılanlarına, Farsçada "asılan" anlamına gelen "avize" denmişti. Tanzimat'tan sonra, sokakların aydınlatılması uygarlığın bir gereği sayılıyordu ve sokakların aydınlatılması için dükkânlara kandil asılması zorunluluk hâline gelmişti.

Bu parçada kandille ilgili olarak aşağıdakilerden hangisine değnilmemiştir?

- A) Sözcüğün kökenine
 - B) Mumlarının yapıldığı malzemelere
 - C) Türklerdeki kullanım alanlarına
 - D) Günümüze kalan kimi türlerine
 - E) Toplumsal yaşamda neyin göstergesi olduğuna
30. Ekran okuma, bilgi teknolojilerinin hızla gelişmesiyle günümüz için bir zorunluluk hâline geldi. Çünkü artık yazılar, bilgisayar sayfalarına aktarılıyor ve bilgisayar aracılığıyla yayımlanıyor. Okuyucular, herhangi bir bilgiye kitap sayfaları yerine ekrandan okuyarak ulaşmak zorunda. Böylece "ekran okuma" adı verilen yeni bir okuma biçimi ve "ekran okuyucusu" denilen yeni bir okuyucu türü ortaya çıktı. Her alanda kullanılmaya başlanan bu okuma biçimi, kâğıttan okumaya göre farklılıklar içeriyor. Ekran okumada yazılar, kâğıt sayfasının yarısına kadar, ekrandan peş peşe sunuluyor, okuyucunun karşısına bilgiler parça parça çıkıyor. Bu nedenle ekran okumaya "parçacık okuma" da deniyor.

Bu parçada aşağıdakilerden hangisine değnilmemiştir?

- A) Veri elde etmede kullanılan çeşitli araçlara
- B) Ekran okumanın giderek yaygınlaştığına
- C) Okuma biçimi ve adlandırma arasındaki ilişkiye
- D) Kitap yayımlamada değişiklikler olduğuna
- E) Ekran okumanın kişisel gelişime katkılarına

31.

$$\left(1 - \frac{1}{4}\right) \left(1 - \frac{1}{5}\right) \left(1 - \frac{1}{6}\right)$$

işleminin sonucu kaçtır?

- A) $\frac{1}{2}$ B) $\frac{1}{3}$ C) $\frac{2}{3}$
 D) $\frac{3}{5}$ E) $\frac{1}{6}$

32.

$$\left(\frac{0,4}{0,05} \cdot \frac{0,25}{0,2}\right) + \frac{0,12}{0,01}$$

işleminin sonucu kaçtır?

- A) 13 B) 22 C) 112 D) 130 E) 220

33.

$$6^3 \cdot (3^2 + 2^2)^{-2} \cdot (3^{-2} + 2^{-2})^2$$

işleminin sonucu kaçtır?

- A) $\frac{1}{4}$ B) $\frac{1}{6}$ C) $\frac{3}{8}$
 D) $\frac{3}{13}$ E) $\frac{5}{13}$

34. $a = \sqrt{3} - 1$ olduğuna göre,

$$\frac{a(a+2)}{a^2 + 2a + 1}$$

ifadesinin değeri kaçtır?

- A) $\frac{1}{3}$ B) $\frac{2}{3}$ C) $\frac{3}{4}$
 D) $\frac{5}{6}$ E) $\frac{8}{9}$

35.

$$2^a = 5^b$$

$$3^b = 4$$

olduğuna göre 45^b nin, 2'nin kuvveti cinsinden yazılışı aşağıdakilerden hangisidir?

- A) 2^{a+2} B) 2^{a-2} C) 2^{a+4}
D) 2^{2a+1} E) 2^{2a+4}

36. Pozitif gerçel sayılar kümesinde \otimes işlemi, her a ve b pozitif gerçel sayısı için

$$a \otimes b = \frac{a+b}{a \cdot b + 4}$$

biçiminde tanımlanıyor.

$a \otimes a = \frac{1}{2}$ olduğuna göre, a kaçtır?

- A) 2 B) 3 C) 4 D) 5 E) 6

37. $a < b < 0 < c$ olmak üzere,

$$|a-b| + |c-a| + |b-2c|$$

ifadesi aşağıdakilerden hangisine eşittir?

- A) $2a - c$ B) $2b + c$ C) $2b - 2c$
D) $3c - 2a$ E) $3c - 2b$

38. $7! - 6! - 5!$ sayısı aşağıdakilerden hangisine kalansız olarak bölünemez?

- A) 14 B) 21 C) 25 D) 30 E) 36

39. $1 < a < b < c$ olmak üzere; ardışık a , b ve c pozitif tam sayılarının çarpımı, $(a+1)(b+1)(c+3)$ çarpımını kalan-sız olarak bölmektedir.

Buna göre, $a + b + c$ toplamı kaçtır?

- A) 9 B) 12 C) 15 D) 18 E) 21

40. Bir dizinin ardışık terimleri arasındaki fark hep aynı kalıyorsa bu diziye bir aritmetik dizi denir.

$$\frac{k}{2}, \frac{2k+12}{3}, \frac{3k}{2}$$

Yukarıdaki sayılar bir aritmetik dizinin ardışık üç terimi olduğuna göre, k kaçtır?

- A) 4 B) 6 C) 8 D) 10 E) 12

41. x ve y birer tam sayı olmak üzere,

$$|x - 2| < 5$$

$$x + 2y = 3$$

olduğuna göre, y 'nin alabileceği değerlerin toplamı kaçtır?

- A) 5 B) 4 C) 3 D) 2 E) 1

42. İki basamaklı AB doğal sayısının onlar basamağının 2 artırılıp birler basamağının 3 azaltılmasıyla elde edilen yeni sayı, AB sayısının 2 katından 11 eksiktir.

Buna göre, $A + B$ toplamı kaçtır?

- A) 8 B) 9 C) 10 D) 11 E) 12

43. Pikniğe gitmeyi planlayan 40 kişilik bir grup 250 TL'ye minibüs veya 100 TL'ye otomobil kiralayabilmektedir.

Kiralanan her bir minibüs 15 ve her bir otomobil 5 kişi aldığına göre, bu grup ulaşım için en az kaç TL öder?

- A) 600 B) 650 C) 700 D) 750 E) 800

44. Ağırlıkça şeker oranı % 15 olan x kg un-şeker karışımına, 12 kg un ekleniyor.

Elde edilen yeni karışımın şeker oranı % 3 olduğuna göre, x kaçtır?

- A) 3 B) 4 C) 6 D) 8 E) 9

45. Bir turnuvada 1. olan kişi toplam para ödülünün yarısını, 2. olan kişi de üçte birini alıyor. Geriye kalan para ise 3., 4. ve 5. olan kişilere eşit olarak dağıtılıyor.

Buna göre, 1. olan kişinin aldığı para ödülü 3. olan kişinin aldığından kaç katıdır?

- A) 4 B) 6 C) 8 D) 9 E) 12

46. Mehmet'in 5 adımda aldığı yolu, kardeşi 8 adımda almaktadır.

Mehmet 100 metrelik yolu 250 adımda aldığına göre, kardeşinin bir adımı kaç cm'dir?

- A) 24 B) 25 C) 28 D) 30 E) 32

47. Hakan Bey, mağazasında bulunan gömleklerin tanesini 45 TL'den satarsa 250 TL kâr, 36 TL'den satarsa 200 TL zarar ediyor.

Buna göre, Hakan Bey'in mağazasında kaç gömlek bulunmaktadır?

- A) 30 B) 35 C) 40 D) 45 E) 50

48. Salı günlerinin çarşamba günlerinden fazla olduğu bir ekim ayında, 29 Ekim hangi gündür?

(Ekim ayında 31 gün vardır.)

- A) Pazar B) Pazartesi
C) Salı D) Perşembe
E) Cumartesi

49. Bir işi Ahmet tek başına 6 günde, Burcu ise tek başına 12 günde bitiriyor. Ahmet tek başına 3 gün çalıştıktan sonra işin kalan kısmını Burcu ile birlikte bitiriyor.

Buna göre Burcu, Ahmet'le birlikte kaç gün çalışmıştır?

- A) 2 B) 3 C) 4 D) 5 E) 6

50. Bir market, belirli bir fiyattan aldığı şampuanlara farklı zamanlarda üç farklı kampanya düzenlemiştir. Aşağıda bu kampanyaların isimleri ve içeriği verilmiştir:

Süper (S): % 35 indirim

Fırsat (F): 1 alana 1 bedava

Ekonomik (E): % 20 indirimli fiyattan % 15 indirim

Bu şampuanların, kampanyalardaki birim fiyatları bakımından ucuzdan pahalıya doğru sıralanışı aşağıdakilerden hangisidir?

- A) E-F-S B) E-S-F C) F-E-S
D) F-S-E E) S-E-F

51. Aslı, Betül ve Cem'in katıldığı bir bilgi yarışmasıyla ilgili aşağıdakiler bilinmektedir:

- Yarışmada toplam 20 soru sorulmuştur.
- Her soruyu yalnızca bir yarışmacı cevaplamıştır.
- Her doğru cevaba 10 puan verilmiştir.
- Bir soruyu yanlış cevaplayan yarışmacıdan 10 puan düşülmüş ve diğer iki yarışmacıya beşer puan eklenmiştir.

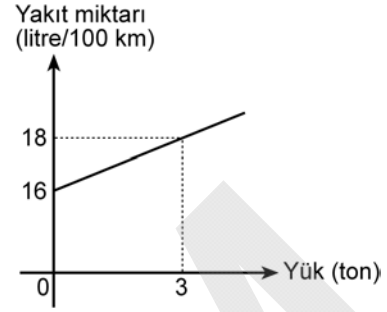
Aşağıdaki tabloda, yarışmanın sonucuyla ilgili bazı bilgiler verilmiştir.

	Doğru sayısı	Yanlış sayısı	Toplam puanı
Aslı			
Betül	7	2	60
Cem		1	55

Buna göre, Aslı'nın toplam puanı kaçtır?

- A) 25 B) 30 C) 35 D) 40 E) 45

52. Aşağıdaki doğrusal grafikte, bir kamyonun taşıdığı yüke göre tükettiği yakıt miktarı verilmiştir.



Grafığe göre bu kamyon, yükü olmadığında her 100 km' de 16 litre yakıt tüketmektedir.

Bu kamyon, 12 ton yükü 150 km taşıdığında kaç litre yakıt tüketir?

- A) 32 B) 36 C) 42 D) 45 E) 48

53. Mete ve Osman, birbirinden farklı 4 kalemin tümünü her biri en az bir kalem alacak biçimde paylaşacaktır.

Bu paylaşım kaç farklı şekilde yapılabilir?

- A) 10 B) 12 C) 14 D) 15 E) 16

54. 3'ü mavi ve 4'ü kırmızı olan 7 topun bulunduğu bir torbadan, torbaya geri konulmaksızın art arda 3 top çekiliyor.

Çekilen topların üçünün de aynı renkte olma olasılığı kaçtır?

A) $\frac{1}{5}$

B) $\frac{1}{7}$

C) $\frac{3}{7}$

D) $\frac{4}{35}$

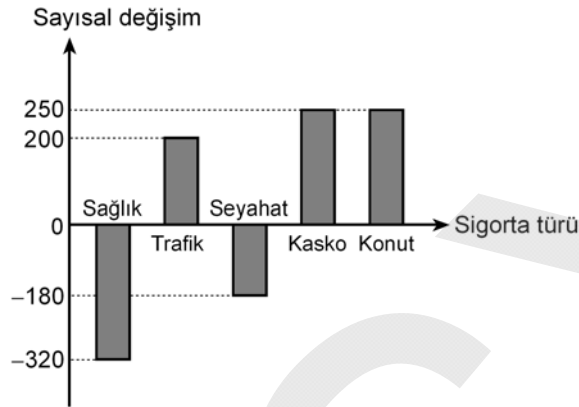
E) $\frac{6}{35}$

55. - 57. soruları aşağıdaki bilgilere göre birbirinden bağımsız olarak cevaplayınız.

Aşağıdaki daire grafikte, 2010 yılında bir sigorta şirketine yaptırılan beş farklı sigortanın sayıca dağılımı verilmiştir.



Aşağıdaki grafikte ise bu şirkete 2011 yılında yaptırılan sigortaların 2010 yılına göre sayısal değişimi verilmiştir.



55. Bu şirkete, 2010 yılında 1000 tane kasko sigortası yaptırıldığına göre, 2011 yılında kaç tane konut sigortası yaptırılmıştır?

- A) 700 B) 750 C) 800 D) 850 E) 900

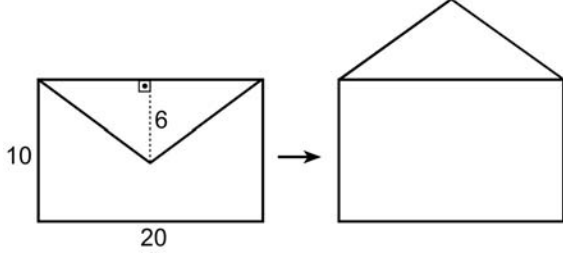
56. Bu şirkete, 2011 yılında toplam 7400 tane sigorta yaptırıldığına göre, 2010 yılında kaç tane kasko sigortası yaptırılmıştır?

- A) 1250 B) 1400 C) 1500
D) 1750 E) 1850

57. Bu şirkete, 2011 yılında yaptırılan sağlık ve seyahat sigorta sayıları toplamı 2500 olduğuna göre, 2010 yılında kaç tane trafik sigortası yaptırılmıştır?

- A) 2800 B) 3000 C) 3250
D) 3400 E) 3750

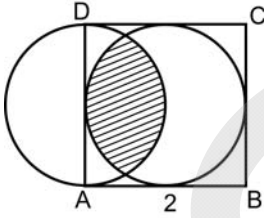
58. Boyutları 10 x 20 cm ve kapak yüksekliği 6 cm olan bir zarf, şekildeki gibi açılıyor.



Buna göre, açılmış hâldeki zarfın kapladığı alan kaç cm^2 dir?

- A) 212 B) 220 C) 248 D) 260 E) 280

59.

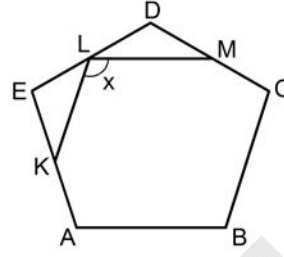


Yukarıdaki şekilde, bir kenar uzunluğu 2 cm olan ABCD karesi, bu kareye içten teğet olan çember ve karenin AD kenarını çap kabul eden çember verilmiştir.

Buna göre, taralı bölgenin alanı kaç cm^2 dir?

- A) $\sqrt{3} - \frac{\pi}{6}$ B) $2\sqrt{3} - \frac{\pi}{2}$
 C) $\pi - \frac{\sqrt{3}}{2}$ D) $\frac{\pi}{3} + \frac{\sqrt{3}}{2}$
 E) $\frac{2\pi}{3} - \frac{\sqrt{3}}{2}$

60.



ABCDE bir düzgün beşgen

$$m(\widehat{KLM}) = x$$

Şekildeki K, L ve M noktaları buldukları kenarların orta noktaları olduğuna göre, x kaç derecedir?

- A) 90 B) 100 C) 108 D) 120 E) 135

1. Bu testte 60 soru vardır.

2. Cevaplarınızı, cevap kâğıdının Genel Kültür Testi için ayrılan kısmına işaretleyiniz.

1.

- I. Bilge Kağan
- II. Tonyukuk
- III. Bumin Kağan

Orhun Yazıtları, yukarıdaki devlet adamlarından hangilerinin dönemlerine ait bilgileri içerir?

- A) Yalnız I B) Yalnız II C) Yalnız III
D) I ve II E) II ve III

2. **Yusuf Has Hacip *Kutadgu Bilig* adlı eserini hangi Türk devleti döneminde, kime takdim etmiştir?**

- A) Hun Devleti - Attila
B) Karahanlı Devleti - Uluğ Kara Buğra Han
C) Gazneli Devleti - Sultan Mahmut
D) Gazneli Devleti - Sultan Mesut
E) Karahanlı Devleti - Satuk Buğra Han

3. **Aşağıdaki devletlerden hangisi, Anadolu Selçuklu Devleti ile ilişki kurmuş olamaz?**

- A) İhşidiler
B) Doğu Roma İmparatorluğu
C) Harzemşahlar
D) Memlûklar
E) Eyyûbiler

4. **Erken Osmanlı Dönemi'nde Ahi Teşkilatı,**

- I. her iş kolunda esnaf dayanışması sağlamak,
- II. kaliteli mal ve hizmet üretilmesini sağlamak,
- III. toplumun bütün eğitim öğretim faaliyetlerini yürütmek

görevlerinden hangilerini üstlenmiştir?

- A) Yalnız I B) Yalnız II C) I ve II
D) II ve III E) I, II ve III

5. **Osmanlı Devleti'nde aşağıdakilerden hangisi Kapıkulu Ocaklarından biri değildir?**

- A) Yeniçeriler B) Cebeciler
C) Topçular D) Silahtarlar
E) Müsellemler

6. Osmanlı toplumunda şehirlerde ve taşrada çeşitli sosyal ve mesleki grupların seçkinleri arasında yer alır, vergilerin belirlenmesi ve toplanmasında görevlilere yardımcı olurlardı. XVIII. yüzyılda giderek güçlenip siyasi alanda da söz sahibi oldular.

Bu özellikler aşağıdakilerden hangisine aittir?

- A) Reaya B) Tımarlı sipahi C) Âyan
D) Yeniçeri E) Esnaf

7. Düyun-ı Umumiye İdaresi aşağıdaki padişahların hangisi döneminde kurulmuştur?

- A) II. Abdülhamit B) Abdülaziz
C) Abdülmecit D) II. Mahmut
E) Vahdettin

8. Aşağıdakilerden hangisi Osmanlı Devleti'nde, XIX. yüzyılda Divanühümayunun yerine oluşturulan yönetim organıdır?

- A) Meclis-i Mebusan B) Meclis-i Vükela
C) Meclis-i Âyan D) Meclis-i Ahkâm-ı Adliye
E) Meclis-i Tanzimat

9. Osmanlı Devleti ile ilgili aşağıdaki eşleştirmelerden hangisi arasında bir ilişki kurulamaz?

- A) Fransız İhtilali - Sırp İsyanları
B) Lale Devri - Patrona Halil İsyanı
C) Nizam-ı Cedit - Kabakçı Mustafa İsyanı
D) Fetret Devri - Şeyh Bedrettin İsyanı
E) Balkan Savaşı - 31 Mart Olayı

10. Mondros Ateşkes Anlaşması'ndan sonra, Anadolu'da Milli Mücadele hareketinin oluşmasında aşağıdakilerden hangisinin etkili olduğu söylenemez?

- A) İzmir'in Yunan işgaline uğraması
B) Doğu'da bağımsız bir Ermenistan kurma söylentileri
C) Trablusgarp ve Bingazi'nin elden çıkması
D) Pontus Rum Devleti kurma çabaları
E) Antep, Maraş ve Urfa'nın Fransızlar tarafından işgali

11. Tüzüğünde amacı; Adana, İçel, Maraş ile bu bölgeye komşu Ayıntab, Antakya, İskenderun, Beylan ve Reyhaniye'de nüfusun % 90'ını oluşturan Türkleri temsil etmek ve buraların Osmanlı Devleti'ne bağlılıklarını kuvvetlendirmek amacıyla gerekli çalışma ve yayınlarda bulunmak olarak açıklanan cemiyet aşağıdakilerden hangisidir?

- A) Millî Kongre
B) Vilâyât-ı Şarkiye Müdafaa-i Hukuk-ı Milliye
C) Redd-i İlhak Heyet-i Milliyesi
D) Kilikyalılar
E) Vahdet-i Milliye

12. Millî Mücadele, halkın seçtiği temsilcilerin almış olduğu kararlarla yürütülen bir kurtuluş hareketidir.

Aşağıdakilerden hangisi bu hareketin içinde yer almaz?

- A) Erzurum Kongresi'nin toplanması
B) Saltanat Şurası'nın toplanması
C) Sivas Kongresi'nin toplanması
D) TBMM'nin açılması
E) Alaşehir Kongresi'nin toplanması

13. Sivas Kongresi sırasında Ali Fuat Cebesoy'un, Temsilciler Kurulu tarafından Kuvayimillîye Genel Komutanlığına atandığı görülmektedir.

Bu durum, Temsilciler Kurulunun,

- I. yürütme,
- II. yasama,
- III. yargı

yetkilerinden hangilerini kullandığını göstermektedir?

- A) Yalnız I B) Yalnız II C) Yalnız III
D) I ve II E) I ve III

14. Aşağıdakilerden hangisi, Millî Mücadele'de Türk ordusunun kazandığı askerî başarılarından sonra yapılan antlaşmalardan biri **değildir**?

- A) Ankara B) Moskova
C) Brest-Litovsk D) Gümrü
E) Kars

15. Millî Mücadele yıllarında meydana gelen gelişmelerden hangisi "millî birlik ve beraberlik ilkesine" **aykırı bir durumdur**?

- A) TBMM'nin kurulması
B) Direniş cemiyetlerinin kurulması
C) Kuvayimillîye'nin ortaya çıkması
D) Kongrelerin toplanması
E) İç ayaklanmaların başlaması

16. Yeni Türk Devleti'nde,

- I. Ankara'nın başkent ilan edilmesi,
- II. halifeliğin kaldırılması,
- III. saltanatın kaldırılması

gelişmelerinin kronolojik sıralaması aşağıdakilerin hangisinde verilmiştir?

- A) I - II - III
B) I - III - II
C) II - III - I
D) III - I - II
E) III - II - I

17. Halifeliğin kaldırılmasında aşağıdakilerden hangisinin etkili olduğu **savunulamaz**?

- A) Laik devlet anlayışının pekiştirilmesi
B) Çok partili hayata geçişin sağlanması
C) Siyasal otoritede bölünmenin önlenmesi
D) Millî egemenlik ilkesinin güçlendirilmesi
E) Dış politikada daha serbest hareket olanağının sağlanması

18. Aşağıdakilerden hangisi, 1926 yılında kabul edilen kanunlardan biri **değildir**?

- A) Medeni Kanun B) Kabotaj Kanunu
C) Takrir-i Sükûn Kanunu D) Ceza Kanunu
E) Borçlar Kanunu

19. Aşağıdakilerden hangisi, Birinci Beş Yıllık Sanayi Planı'nın uygulamaya konulmasından sonraki girişimlerden biridir?

- A) Türkiye Sanayi ve Maadin Bankasının kurulması
- B) Ticaret ve Sanayi Odaları Kanunu'nun kabul edilmesi
- C) Teşvik-i Sanayi Kanunu'nun çıkarılması
- D) Ankara'da bir sanayi kongresinin toplanması
- E) Maden Tetkik ve Arama Enstitüsünün kurulması

20. Türkiye Cumhuriyeti halkı ayrı ayrı sınıfların birleşmesinden değil, ferdî ve toplumsal hayat için iş bölümü bakımından türlü hizmet gruplarına ayrılmış bir toplumdur. Her ferdi, her ailesi, her sınıfı kanunlar önünde mutlak eşitliğe sahiptir. Hiçbiri için imtiyaz söz konusu değildir.

Bu ifadelerde anlatılan Atatürk ilkesi aşağıdakilerden hangisidir?

- A) Halkçılık
- B) İnkılapçılık
- C) Devletçilik
- D) Laiklik
- E) Milliyetçilik

21. J. J. Rousseau'nun, "Yalnız genel irade, devletin güçlerini herkesin iyiliğine uygun olarak yürütebilir." sözü ve Atatürk'ün, "Millî emeller, millî irade yalnız bir şahsın düşüncesinden değil, bütün millet fertlerinin birleşmesinden ibarettir." sözüyle vurguladıkları ilke aşağıdakilerden hangisidir?

- A) Halkçılık
- B) Milliyetçilik
- C) Laiklik
- D) Cumhuriyetçilik
- E) Devletçilik

22. 1924 Anayasası'nda, milletvekillerinin ve cumhurbaşkanının yemin ifadeleri 1928 yılında değiştirilmiştir.

Bu değişiklikle aşağıdaki ilkelerden hangisinin pekiştirilmesi amaçlanmıştır?

- A) Halkçılık
- B) Laiklik
- C) Milliyetçilik
- D) Devletçilik
- E) İnkılapçılık

23. 12 Aralık 1930'da Millî İktisat ve Tasarruf Cemiyeti kurularak 12-16 Aralık arası Yerli Malı ve Tasarruf Haftası olarak belirlenmiştir.

Aşağıdakilerden hangisinin, bu durumun nedenlerinden biri olduğu savunulamaz?

- A) Yerli üretimin teşvik edilmesi
- B) 1929 Dünya Ekonomik Krizinin etkisinden kurtulma çabası
- C) Millî iktisat politikasının uygulanması
- D) Cumhuriyet'in girişimci vatandaş yetiştirme politikası
- E) Ekonomide ithalata öncelik verilmek istenmesi

24. 29 Ekim'in Cumhuriyet Bayramı olarak kutlanması aşağıdaki yılların hangisinde yasalaşmıştır?

- A) 1923
- B) 1924
- C) 1925
- D) 1927
- E) 1929

25. Türkiye'nin yaşadığı aşağıdaki uluslararası sorunların hangisinde Fransa doğrudan taraf olmamıştır?

- A) Musul
- B) Hatay
- C) Suriye sınırı
- D) Dış borçlar
- E) Yabancı okullar

26. Osmanlı Dönemi'nde açılan Sanayi-i Nefise Mektebi, Atatürk Dönemi'nde aşağıdakilerden hangisine dönüştürülmüştür?

- A) Güzel Sanatlar Akademisi
- B) İstanbul Belediyesi Konservatuvarı
- C) Millî Musiki ve Temsil Akademisi
- D) Ankara Musiki Muallim Mektebi
- E) Ankara Konservatuvarı

27. Türkiye'nin Balkan Antantı ile Balkanlarda, Sadabat Paktı ile Orta Doğu'da anlaşmalar yapmasındaki amacının aşağıdakilerden hangisi olduğu savunulabilir?

- A) Orta Doğu'nun zengin petrol kaynaklarından yararlanmak
- B) Balkanlarda ortak gümrük oluşturmak
- C) Orta Doğu ile Balkanlar arasında enerji geçişini sağlamak
- D) Demokratik anlayışı buralarda hâkim kılmak
- E) İtalyan ve Alman yayılcılığına karşı tedbir almak

28. Atatürk Dönemi'nde aşağıdakilerden hangisi, dünyanın ilk kadın savaş pilotu olmuştur?

- A) Pakize İzzet Tarzi
- B) Sabiha Gökçen
- C) Sabiha Güreyman
- D) Halide Edip Adivar
- E) Afet İnan

29. Atatürk Dönemi'nde gerçekleştirilen,

- I. Medeni Kanun'un kabul edilmesi,
- II. miladi takvimin kullanılmaya başlanması,
- III. Takrir-i Sükûn Kanunu'nun çıkarılması

uygulamalarından hangileriyle, Türkiye'nin çağdaş dünya ile bütünleşmesinin amaçlandığı savunulabilir?

- A) Yalnız I
- B) Yalnız II
- C) Yalnız III
- D) I ve II
- E) II ve III

30. Terakkiperver Cumhuriyet Partisinin programının belirgin özellikleri aşağıdakilerin hangisinde verilmiştir?

- A) Cumhuriyetçi - liberal
- B) Devletçi - milliyetçi
- C) Otoriter - liberal
- D) Hürriyetçi - devletçi
- E) Otoriter - devletçi

31. Karadeniz'in doğusundan başlayarak Akdeniz'in doğusuna kadar Türkiye'nin kıyı şeridi boyunca inceleme ve araştırma yapan bir kişi, bu kıyılarda aşağıdakilerden hangisinin ortak olduğunu gözlemler?

- A) Dağların kıyıya paralel uzandığını
- B) Tüm akarsuların delta oluşturduğunu
- C) Güneşlenme süresinin aynı olduğunu
- D) Günlük sıcaklık farkının az olduğunu
- E) Kumsalların geniş yer kapladığını

32. Türkiye'de çığ olaylarının görülme sıklığı, dağların kuzey ve güney yamaçlarında farklılık gösterir.

Aşağıdakilerden hangisinin bu durum üzerinde daha etkili olduğu söylenebilir?

- A) Doğal bitki örtüsünün sıklığı
B) Toprak örtüsünün kalınlığı
C) Egemen rüzgâr yönü
D) Yer şekillerinin engebелiliği
E) Donma erime olaylarının sıklığı
33. Çeşitli nedenlerle tahrip edilen bir orman alanının eski hâline dönebilmesi için geçen süreye ormanın kendini yenileme süresi denir.

Buna göre, aşağıda verilen yerlerin iklim özellikleri göz önüne alındığında hangisinde ormanın kendini yenileme süresinin diğerlerinden daha kısa olması beklenir?

- A) Göller Yöresi
B) Ergene Havzası
C) Gaziantep Platosu
D) Menteşe Yöresi
E) Konya Ovası

34. Türkiye nüfusuyla ilgili aşağıdaki bilgilerden hangisi yanlıştır?

- A) Kıyıyla iç kesimler arasında nüfus yoğunluğu bakımından önemli farklılıklar vardır.
B) Nüfusun dağılışı, iklim ve yer şekilleriyle yakından ilgilidir.
C) Genellikle kış mevsiminin ılık ve yağışlı geçtiği yerlerde nüfus yoğunluğu fazladır.
D) Endüstrinin geliştiği kentlerde, nüfus yoğunluğu mevsimler arasında büyük değişiklik gösterir.
E) Nüfus yoğunluğunun fazlalığında illerin yüz ölçümlerinin büyüklüğü önemli bir etkidir.

35. Yirminci yüzyılın ortalarına kadar ülkeler, nüfusun sayısal olarak fazlalığını, güçlü olmak için gerekli ve yeterli bir faktör olarak görüyorlardı. Günümüzdeyse ülkelerin çoğu nüfusun sayıca fazlalığından çok, sosyal ve ekonomik niteliklerine önem vermektedir.

Aşağıdakilerden hangisi, parçada sözü edilen nüfusun sosyal ve ekonomik özellikleri arasında gösterilemez?

- A) Çalışan nüfusun sektörel dağılımı
B) Nüfusun dağılışı
C) Ortalama yaşam süresi
D) Kır ve kent nüfus oranları
E) Nüfusun eğitim durumu

36. Türkiye'de Karadeniz'in kıyı kesimindeki bazı yörelerde "serender" adı verilen 3-4 metre yükseklikte 5-6 metre-kare genişlikte ve çoğunlukla ahşap ayaklar üzerine oturtulan yapılar vardır.

Bölgenin coğrafi özellikleri göz önüne alındığında bu yapıların hangi nedenle kurulduğu söylenebilir?

- A) Ürünü nemden koruma
B) Rüzgârdan korunma
C) Sıcaktan korunma
D) Hayvan barınağı
E) Konut yetersizliği

37. Aşağıda verilen ekonomik etkinliklerden hangisinin, topoğrafik koşullara bağlı olarak geliştiği söylenemez?

- A) Karadeniz yaylalarında hayvancılık etkinliklerinin yapılması
- B) Kıyı ovalarında tarımsal etkinliklerin yoğun olması
- C) Palandöken Dağlarında kış turizminin yoğun olması
- D) Doğu ve Güneydoğu Anadolu'da hidroelektrik santrallerinin fazla olması
- E) Çatalca ve Kocaeli platolarında endüstriyel etkinliklerin gelişmiş olması



Yukarıdaki haritada, Türkiye'de endüstriyel etkinliklerin yoğun olduğu bazı il merkezleri gösterilmiştir.

Buna göre;

- I. kara ve demir yolu ulaşım olanaklarına sahip olmaları,
- II. önemli ticaret limanlarına sahip veya onlara yakın olmaları,
- III. endüstriyel ham madde kaynakları bakımından zengin olmaları

özelliklerinden hangileri verilen bütün iller için ortaktır?

- A) Yalnız I
- B) Yalnız II
- C) Yalnız III
- D) I ve II
- E) I, II ve III

39. Kıyı Ege'nin ekonomik etkinlikleri göz önüne alındığında en fazla gelişme gösteren endüstri kollarının ortak özelliğinin aşağıdakilerden hangisi olduğu söylenebilir?

- A) Maden işletmeciliğinin yaygın olması
- B) Otomotiv endüstrisinin gelişmiş olması
- C) Endüstride tarımsal ham maddenin ağırlıklı olması
- D) Ham madde için büyük oranda dışa bağımlı olması
- E) Büyük ölçekli endüstri kuruluşlarının çoğunlukta olması



Pamuk, sıcak iklimin egemen olduğu alanlarda ve alüvyal topraklarda yetişir. Yetiştirme döneminde bol su, olgunlaşma dönemindeyse sıcak ve kurak bir havaya ihtiyaç duyar.

Buna göre, yukarıdaki haritada numaralarla gösterilen yerlerden hangileri pamuk tarımı için uygun değildir?

- A) Yalnız I
- B) Yalnız II
- C) II ve III
- D) III ve IV
- E) IV ve V

41. Aşağıdakilerden hangisi, Türkiye’de çeltik tarımı yapılan yerlerin ortak özellikleri arasında gösterilebilir?

- A) Yağış rejimlerinin düzenli olması
- B) Genellikle akarsu boylarında bulunmaları
- C) Kış aylarında don olaylarının görülmemesi
- D) Yılda birden fazla ürün alınması
- E) Aynı iklim bölgesinde yer almaları

42. Türkiye’de büyükbaş hayvancılığa göre küçükbaş hayvancılık daha yaygındır. Küçükbaş hayvan türleri içerisinde de koyun, en çok yetiştirilen hayvan türüdür.

Buna göre, Türkiye’de koyun yetiştiriciliğinin diğer türlere göre daha fazla olmasında;

- I. bozkırların geniş yer kaplaması,
- II. ülkenin büyük bölümünde yaz kuraklığının belirgin olması,
- III. ortalama yükseltinin fazla olması,
- IV. tümüyle aile işletmeciliği şeklinde yapılması

özelliklerinden hangilerinin etkili olduğu söylenebilir?

- A) I ve II
- B) I ve III
- C) II ve III
- D) I, II ve IV
- E) II, III ve IV

43. İstanbul ve Çanakkale Boğazlarının Türkiye’de deniz balıkçılığının önemli alanlarından olmasında;

- I. akıntılara bağlı olarak besin maddeleri yönünden zengin olması,
- II. balıkların göç yolunu oluşturması,
- III. kıyı kullanımının diğer yerlere göre daha yoğun olması,
- IV. boğazların ortalama derinliğinin fazla olmaması

özelliklerinden hangileri etkili olmuştur?

- A) Yalnız I
- B) Yalnız II
- C) I ve II
- D) III ve IV
- E) II, III ve IV

44. Türkiye’de arıcılığın “herkes için potansiyel bir istihdam ve gelir kaynağı” olduğunu söyleyen bir kişi aşağıdakilerden hangisini buna gerekçe olarak gösterebilir?

- A) Arıcılığın düşük maliyetli ve özel mülkiyet gerektirmeyen arazi varlığına bağlı bir iş kolu olmasını
- B) Arıcılık faaliyeti ile bal ve bal mumu gibi bozulmadan uzun süre saklanabilen ürünlerin üretilmesini
- C) Arıcılıkta üretilen ürünlerin ekonomik değerinin yüksek olmasını
- D) Türkiye’nin iklim özellikleri nedeniyle bitkilerin çiçeklenmesinin farklı dönemlerde olmasını
- E) Türkiye’nin tüketim için büyük bir pazar alanı olmasını

45. Türkiye'de kurulması planlanan ilk nükleer güç santralinin Mersin Akkuyu'da inşa edilmesi kararlaştırılmıştır.

Buna göre, Akkuyu'nun seçiminde;

- I. yıllık ortalama sıcaklıklarının yüksek olması,
- II. Türkiye'deki nükleer ham madde rezervlerine yakın olması,
- III. topoğrafik koşullarının uygun olması,
- IV. denize yakın bir konumda olması

özelliklerinden hangilerinin etkili olduğu söylenebilir?

- A) Yalnız I
- B) Yalnız II
- C) I ve II
- D) III ve IV
- E) I, III ve IV

46. Türkiye, yer şekilleri bakımından engebeli bir ülkeye karşın son yıllarda ulaşım alanında büyük gelişmeler göstermektedir.

Türkiye'nin ulaşım alanında gösterdiği bu gelişmelerin en önemli nedeni aşağıdakilerden hangisidir?

- A) Tarımda çalışan nüfus oranının azalması
- B) Yüz ölçümünün büyüklüğü
- C) Kentleşme oranının artması
- D) Coğrafi konumu
- E) Teknolojik gelişmeler ve ekonomik kalkınma

47.

- I. Yer şekilleri
- II. Hava ve atmosfer olayları
- III. Sıcak su kaynakları
- IV. Modern mimari

Türkiye turizmindeki çekicilikler göz önüne alındığında yukarıdakilerden hangilerinin daha fazla öneme sahip olduğu söylenebilir?

- A) I ve II
- B) I ve III
- C) II ve III
- D) II ve IV
- E) III ve IV

48. Türkiye'nin son beş yıla ait elektrik enerjisi üretimiyle bu üretim içindeki termik ve hidroelektrik santrallerin paylarını gösteren bir grafiğe bakılarak aşağıdakilerden hangisine ulaşamaz?

- A) Verilen yıllar arasında termik ve hidroelektrik enerji üretimindeki farklılıklara
- B) Hidroelektrik enerjisinin toplam üretim içindeki payına
- C) Elektrik enerjisi üretiminin en düşük olduğu yıla
- D) Elektrik enerjisi üretiminde termik santrallerinin payına
- E) Termik enerji üretiminde maliyetin en yüksek olduğu yıla

49. Aşağıdakilerden hangisi, demokrasinin olmazsa olmaz unsurlarından biri değildir?

- A) Üniter devlet
- B) Özgür ve düzenli seçimler
- C) Temel hak ve hürriyetler
- D) Çok partili siyasal hayat
- E) Seçilmişlerin üstünlüğü

50. 1982 Anayasası'na göre, yasama dokunulmazlığının kaldırılması ve milletvekilliğinin düşürülmesi kararlarının yargısal denetimini aşağıdakilerden hangisi yapar?

- A) Yargıtay
- B) Anayasa Mahkemesi
- C) Danıştay
- D) Yüce Divan
- E) TBMM Genel Kurulu

51. Tabii afet, tehlikeli salgın hastalıklar veya ağır ekonomik bunalım hâllerinde, olağanüstü hâl ilan etme yetkisi aşağıdakilerden hangisine aittir?

- A) Cumhurbaşkanı
- B) Başbakan
- C) İçişleri Bakanı
- D) Türkiye Büyük Millet Meclisi
- E) Cumhurbaşkanı başkanlığında toplanan Bakanlar Kurulu

52. Görevleriyle ilgili bir suç nedeniyle haklarında soruşturma veya kovuşturma açılan belediye organları veya bu organların üyeleri, kesin hükme kadar aşağıdakilerden hangisi tarafından görevden uzaklaştırılabilir?

- A) Bakanlar Kurulu
- B) Başbakan
- C) İçişleri Bakanı
- D) Adalet Bakanı
- E) Vali

53. Devlet memurlarının mal bildiriminde bulunması kural olarak kaç yılda bir yapılmaktadır?

- A) 1
- B) 2
- C) 3
- D) 4
- E) 5

54. Devlet Memurları Kanunu'na göre aşağıdakilerden hangisi, memurluğun sona erme hâllerinden biri değildir?

- A) Memurluktan çıkarılma
- B) Memurluktan çekilme
- C) Memurluğa alınma şartlarından birinin kaybedilmesi
- D) Yaşlanma
- E) Ölüm

55. Gelir vergisinin, geliri daha fazla olanlardan geliri daha az olanlara göre daha yüksek oranda tahsil edilmesi aşağıdaki kavramlardan hangisinin sonucu olarak gerçekleşmektedir?

- A) Görgü
- B) Denkleştirici adalet
- C) Paylaştırıcı (dağıtıcı) adalet
- D) Etik
- E) Örf ve âdet

56. Hukuk kuralları arasında, aksine bir hukuki işlem yapılması mümkün olmayan, tarafların kendi iradeleri ile değiştiremeyecekleri kurallara ne ad verilir?

- A) Yedek kurallar
- B) Emredici kurallar
- C) Yorumlayıcı kurallar
- D) Tamamlayıcı kurallar
- E) Tanımlayıcı kurallar

57. Özel hukuk alanında yabancı unsur taşıyan hukuki ilişki ve ihtilafların çözümünde uygulanacak kuralları kapsayan hukuk dalı aşağıdakilerden hangisidir?

- A) Devletler özel hukuku
- B) İdare hukuku
- C) Medeni hukuk
- D) Medeni usul hukuku
- E) İş hukuku

58. Aşağıdakilerden hangisi, AB'ye katılım süreci çerçevesinde gerçekleştirilen reformlardan biri değildir?

- A) Devlet Güvenlik Mahkemelerinin kapatılması
- B) Ölüm cezasının Anayasa'dan tamamen çıkarılması
- C) Anayasa Mahkemesine bireysel başvuru hakkının tanınması
- D) Askerlik süresinin kısaltılması
- E) Kişisel verilerin korunmasını isteme hakkının tanınması

59. Zorunlu deprem sigortası kapsamında olan binalar aşağıdakilerden hangisidir?

- A) Kamu kurum ve kuruluşlarına ait binalar
- B) Köy yerleşim alanlarında yapılan binalar
- C) İş hanı, iş merkezi gibi tamamı ticari amaçla kullanılan binalar
- D) İnşaatı henüz tamamlanmamış binalar
- E) Tapuya kayıtlı ve mesken olarak inşa edilmiş binalar

60. Para Politikası Kurulu aşağıdakilerin hangisinin organları arasında yer alır?

- A) Türkiye Cumhuriyet Merkez Bankası
- B) Bankacılık Düzenleme ve Denetleme Kurulu
- C) Ekonomi Bakanlığı
- D) Sermaye Piyasası Kurulu
- E) Maliye Bakanlığı

SINAVDA UYULACAK KURALLAR

- Cep telefonu ile sınava girmek kesinlikle yasaktır.** Çağrı cihazı, telsiz, fotoğraf makinesi vb. araçlarla; cep bilgisayarı, kol ya da cep saati gibi her türlü bilgisayar özelliği bulunan cihazlarla; silah ve benzeri teçhizatla; müsvedde kâğıdı, defter, kitap, sözlük, sözlük işlevi olan elektronik aygıt, hesap cetveli, hesap makinesi, pergel, açölçer, cetvel vb. araçlarla sınava girmek kesinlikle yasaktır. Bu araçlarla sınava girmiş adayların adı mutlaka Salon Sınav Tutanağına yazılacak, bu adayların sınavı geçersiz sayılacaktır. **Sınava kalem, silgi, kalemtraş, saat vb. araçla ve kulaklık, küpe, broş vb. takı, herhangi bir metal eşya ile girmek de kesinlikle yasaktır. Yiyecek, içecek vb. tüketim malzemeleri de sınava getirilemez. Adaylar sınava şeffaf şişe içerisinde su getirebilecektir.**
- Bu sınav için verilen toplam cevaplama süresi **120 dakikadır.** Sınav başladıktan sonra **ilk 90** ve **son 15** dakika içinde adayın sınavdan çıkmasına kesinlikle izin verilmeyecektir. **Bu süreler dışında, cevaplamaı sınav bitmeden tamamlarsanız cevap kâğıdınızı ve soru kitapçığınızı salon görevlilerine teslim ederek salonu terk edebilirsiniz.**
- Sınav salonundan ayrılan aday, her ne sebeple olursa olsun, tekrar sınava alınmayacaktır.**
- Sınav süresince görevlilerle konuşmak, görevlilere soru sormak yasaktır. Aynı şekilde görevlilerin de adaylarla yakından ve alçak sesle konuşmaları ayrıca adayların birbirinden kalem, silgi vb. şeyleri istemeleri kesinlikle yasaktır.
- Sınav sırasında, görevlilerin her türlü uyarılarına uymak zorundasınız. Sınavınızın geçerli sayılması, her şeyden önce, sınav kurallarına uymanıza bağlıdır. Kurallara aykırı davranışta bulunanların ve yapılacak uyarılara uymayanların kimlik bilgileri Salon Sınav Tutanağına yazılacak ve sınavları geçersiz sayılacaktır.
- Sınav sırasında kopya çeken, çekmeye kalkışan, kopya veren, kopya çekilmesine yardım edenlerin kimlik bilgileri Salon Sınav Tutanağına yazılacak ve bu adayların sınavları geçersiz sayılacaktır. Görevliler kopya çekmeye ya da vermeye kalkışanları uyararak zorunda değildir, sorumluluk size aittir.
Adayların test sorularına verdikleri cevapların dağılımları bilgi işlem yöntemleriyle incelenecek, bu incelemelerden elde edilen bulgular bireysel ya da toplu olarak kopya çekildiğini gösterirse kopya eylemine katılan adayın/adayların sınavı geçersiz sayılacaktır.
Sınav görevlileri bir salondaki sınavın, kurallara uygun biçimde yapılmadığını, toplu kopya girişiminde bulunulduğunu raporlarında bildirdiği takdirde, ÖSYM takdir hakkını kullanarak bu salonda sınava giren tüm adayların sınavını geçersiz sayabilir.
- Cevap kâğıdında doldurmanız gereken alanlar bulunmaktadır. Bu alanları doldurunuz. Cevap kâğıdınızı başkaları tarafından görülmeyecek şekilde tutmanız gerekmektedir. Cevap kâğıdına yazılacak her türlü yazıda ve yapılacak bütün işaretlemelerde salon görevlisinin atacağı imzalar hariç, kurşun kalem kullanılacaktır. Sınav süresi bittiğinde cevapların cevap kâğıdına işaretlenmiş olması gerekir. Soru kitapçığına işaretlenen cevaplar geçerli değildir.
- Soru kitapçığınızı alır almaz kapağında bulunan ilgili alanlara kimlik bilgilerinizi yazınız. Sayfaları eksik olup olmadığını, kitapçıkta basım hatalarının bulunup bulunmadığını ve soru kitapçığının her sayfasında basılı bulunan soru kitapçık numarasının, kitapçığın ön kapağında basılı soru kitapçık numarasıyla aynı olup olmadığını kontrol ediniz. Soru kitapçığının sayfası eksik ya da basımı hatalıysa değiştirilmesi için Salon Başkanına başvurunuz.
Size verilen soru kitapçığının numarasını cevap kâğıdınızdaki "Soru Kitapçık Numarası" alanına yazınız ve kodlayınız. Cevap kâğıdınızdaki "Soru kitapçık numaramı doğru kodladım." kutucuğunu işaretleyiniz.
Soru kitapçığı üzerinde yer alan Soru Kitapçık Numarasını doğru kodladığınızı beyan eden alanı imzalayınız ve salon görevlisinin, kodlamanın doğru yapıldığını beyan eden hem soru kitapçığınınzdaki hem de cevap kâğıdınızdaki ilgili alanı imzaladığından emin olunuz. Salon görevlisi imzasını tükenmez kalemle ve siz kodlamayı yaptıktan sonra atmalıdır.
- Sınav sonunda soru kitapçıkları toplanacak ve ÖSYM'de tek tek incelenecektir. Soru kitapçığının bir sayfası bile eksik çıkarsa sınavınız geçersiz sayılacaktır.
- Cevap kâğıdına ve soru kitapçığına yazılması ve işaretlenmesi gereken bilgilerde bir eksiklik ve/veya yanlışlık olması hâlinde sınavınızın değerlendirilmesi mümkün olamamaktadır, sorumluluk size aittir.
- Soru kitapçığının sayfalarındaki boş yerleri müsvedde için kullanabilirsiniz.
- Soruları ve/veya bu sorulara verdiğiniz cevapları ayrı bir kâğıda yazıp bu kâğıdı dışarı çıkarmanız kesinlikle yasaktır.
- Her testin cevaplarını cevap kâğıdındaki ilgili alana işaretlemeye dikkat ediniz.**
- Sınav salonundan ayrılmadan önce, soru kitapçığınızı ve cevap kâğıdınızı salon görevlilerine teslim etmeyi unutmayınız.

Bu testlerin her hakkı saklıdır. Hangi amaçla olursa olsun, testlerin tamamının veya bir kısmının Merkezimizin yazılı izni olmadan kopya edilmesi, fotoğrafının çekilmesi, herhangi bir yolla çoğaltılması, yayımlanması ya da kullanılması yasaktır. Bu yasağa uymayanlar gerekli cezai sorumluluğu ve testlerin hazırlanmasındaki mali külfeti peşinen kabullenmiş sayılır.

KAMU PERSONEL SEÇME SINAVI (KPSS)
ÖN LİSANS
GENEL YETENEK TESTİ - GENEL KÜLTÜR TESTİ
CEVAP ANAHTARI
22 EYLÜL 2012 CUMARTESİ

GENEL YETENEK TESTİ

- | | |
|-------|-------|
| 1. A | 31. A |
| 2. C | 32. B |
| 3. B | 33. B |
| 4. D | 34. B |
| 5. E | 35. C |
| 6. E | 36. A |
| 7. D | 37. D |
| 8. B | 38. E |
| 9. B | 39. D |
| 10. B | 40. E |
| 11. D | 41. D |
| 12. D | 42. C |
| 13. C | 43. C |
| 14. C | 44. A |
| 15. A | 45. D |
| 16. E | 46. B |
| 17. D | 47. E |
| 18. C | 48. A |
| 19. B | 49. A |
| 20. A | 50. D |
| 21. D | 51. E |
| 22. E | 52. B |
| 23. B | 53. C |
| 24. C | 54. B |
| 25. A | 55. D |
| 26. B | 56. C |
| 27. A | 57. B |
| 28. C | 58. D |
| 29. D | 59. E |
| 30. E | 60. C |

GENEL KÜLTÜR TESTİ

- | | |
|-------|-------|
| 1. D | 31. D |
| 2. B | 32. E |
| 3. A | 33. D |
| 4. C | 34. D |
| 5. E | 35. B |
| 6. C | 36. A |
| 7. A | 37. E |
| 8. B | 38. D |
| 9. E | 39. C |
| 10. C | 40. C |
| 11. D | 41. B |
| 12. B | 42. A |
| 13. A | 43. C |
| 14. C | 44. A |
| 15. E | 45. D |
| 16. D | 46. E |
| 17. B | 47. B |
| 18. C | 48. E |
| 19. E | 49. A |
| 20. A | 50. B |
| 21. D | 51. E |
| 22. B | 52. C |
| 23. E | 53. E |
| 24. C | 54. D |
| 25. A | 55. C |
| 26. A | 56. B |
| 27. E | 57. A |
| 28. B | 58. D |
| 29. D | 59. E |
| 30. A | 60. A |